



Einmaleins mit 4




1



$1 \cdot 4 = \underline{\quad}$
 $\underline{\quad}$ Räder sind es.



$2 \cdot 4 = \underline{\quad}$
 $\underline{\quad}$ Räder sind es.



$3 \cdot 4 = \underline{\quad}$
 $\underline{\quad}$ Räder sind es.

Mein
1-1
-Heft

2




Autos	1	2		4		6	7		9	
Räder	4		12		20			32		40



4 Zeige am Punktfeld die Mal-Aufgabe.

- a) $6 \cdot 4 =$ b) $10 \cdot 4 =$ c) $8 \cdot 4 =$ d) $7 \cdot 4 =$
 e) $3 \cdot 4 =$ f) $5 \cdot 4 =$ g) $4 \cdot 4 =$ h) $0 \cdot 4 =$



5 Welche Zahlen gehören zur Vierer-Reihe? Schreibe die Mal-Aufgabe dazu.

- (8) 10 12 15 20 24 28 30 32 35

$2 \cdot 4 = 8$

6 Von den Sonnen-Aufgaben zu den Nachbaraufgaben.

(Welche Sonnen-Aufgabe nutzt du? → Leicht zu merken)

- a) $6 \cdot 4 =$ b) $4 \cdot 4 =$ c) $9 \cdot 4 =$ d) $3 \cdot 4 =$
 Sonnen- → $5 \cdot 4 =$ $5 \cdot 4 =$ $10 \cdot 4 =$ $2 \cdot 4 =$
 aufgabe