

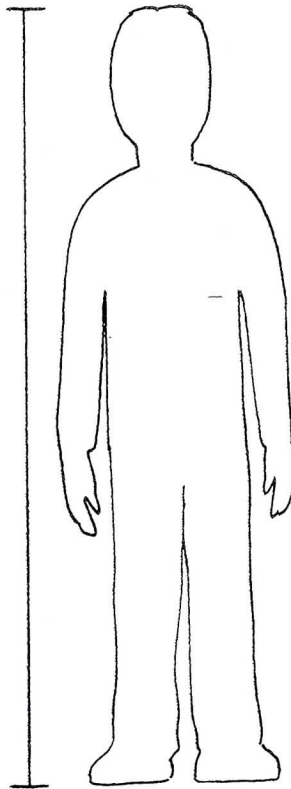
Längen an Stationen 1

So groß bin ich

- Ziehe deine Schuhe aus.
- Stelle dich mit geradem Rücken vor die Messlatte und bitte deinen Partner, deine Größe abzulesen.

___ cm = ___, ___ m

- Male dich in die Umrissfigur.
- Bestimme nun deinen Ein-Meter-Punkt, indem dein Partner vom Boden ab 1 m an dir abmisst.
- Zeichne deinen Ein-Meter-Punkt mit Rot in dein Bild ein.




Ihr braucht:

- eine Messlatte oder ein Maßband an der Tür
- ein Maßband

Zusatzaufgabe

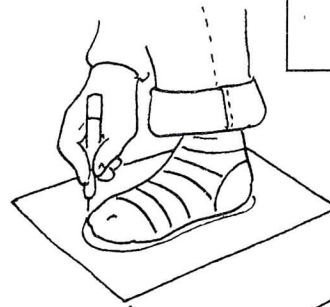
Miss und schreibe auf:
So breit bin ich, wenn ich meine Arme auseinander halte.



Längen an Stationen 3

Schuhgröße

- Ziehe deinen Schuh aus.
- Stelle den Fuß dann auf ein Blatt Papier und zeichne den Umriss nach.
- Miss die Fußlänge, wie im Beispiel.
- Suche nun in der Tabelle deine Schuhgröße



Du brauchst:

- ein weißes Blatt Papier
- ein Lineal

Fußlänge bis ___ cm	16,2	16,8	17,4	18,1	18,7	19,4
Schuhgröße	26	27	28	29	30	31

Fußlänge bis ___ cm	20,1	20,7	21,4	22,1	22,7	23,4
Schuhgröße	32	33	34	35	36	37

