


Känguru Wochenblatt 2 Level 1



Kreise die richtigen Lösungen ein

- A1** $20 \cdot 19 + 20 + 19 =$
 (A) 178 (B) 219 (C) 341 (D) 419 (E) 521


- A2** Die 5 Besten beim Sportfest werden ausgezeichnet.
 Je höher ein Kind steht, desto besser war es. Wer ist Dritter?
 (A) Alex (B) Billa (C) Carl (D) Dan (E) Enie



- A3** Das Maya-Volk hat Zahlen mit Punkten und Strichen geschrieben. Ein Punkt steht für 1, ein Strich steht für 5. Rechts steht die Maya-Zahl 8. Wie sieht die Maya-Zahl 12 aus?

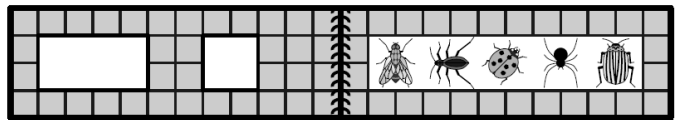
- (A) (B) (C) (D) (E)

- A4** Wenn vorgestern Dienstag war, welcher Tag ist dann übermorgen?
 (A) Montag (B) Mittwoch (C) Freitag
 (D) Samstag (E) Sonntag



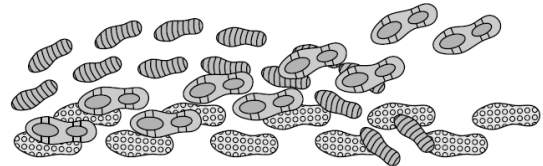
- A5** Edgar rechnet und füllt die leeren Kästchen richtig aus. Welche Zahl gehört in das Kästchen mit dem Fragezeichen?
 (A) 2 (B) 3 (C) 5 (D) 8 (E) 9

- A6** Welche Tiere sind durch die beiden Fenster zu sehen, wenn das Bilderbuch zugeklappt wird?



- (A) (B) (C) (D) (E)


- A7** Ein Detektiv hat im Schnee die Spuren der drei Diebe entdeckt. In welcher Reihenfolge sind die Spuren entstanden?



- (A) (B) (C) (D) (E)

- A8** Nur eines der folgenden Teile kann aus dem rechts abgebildeten Muster ausgeschnitten werden. Welches?

- (A) (B) (C) (D) (E)



Bitte erledige diese Aufgaben bis Freitag. Schreibe den Lösungsweg auf ein kariertes Blatt. Schicke mir beides über dem SchoolFox zu.