

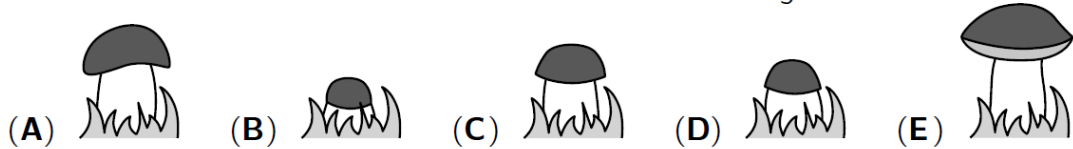
# Känguru Wochenblatt 1 Level 1



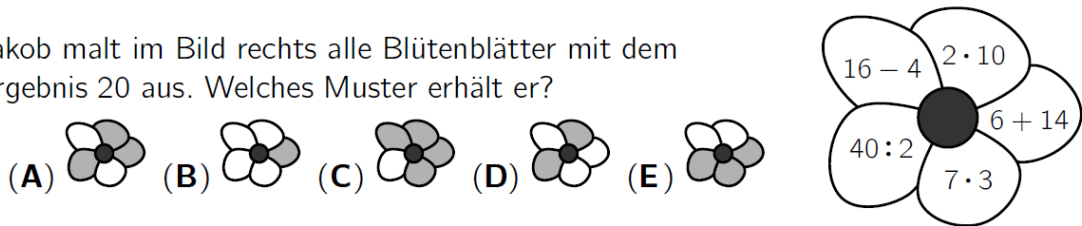
Kreise die richtigen Lösungen ein.

Bitte erledige diese Aufgaben bis Freitag. Schreibe den Lösungsweg auf ein kariertes Blatt. Schicke mir beides über dem SchoolFox zu.

- A1** Vor Lisas Fenster wächst ein großer Steinpilz. An jedem Tag von Montag bis Freitag macht Lisa ein Foto. Welches Foto macht sie am Donnerstag?



- A2** Jakob malt im Bild rechts alle Blütenblätter mit dem Ergebnis 20 aus. Welches Muster erhält er?



- A3** Die Pizzeria „Napolitano“ ist in jeder Woche von Mittwoch bis Sonntag jeweils von 16 Uhr bis 22 Uhr geöffnet. Wie viele Stunden sind das pro Woche?

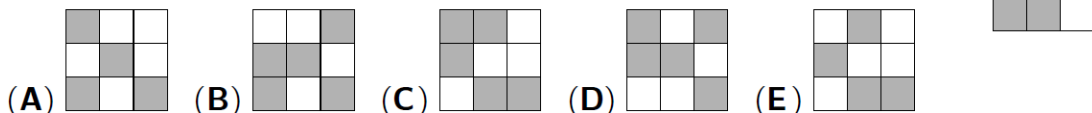
(A) 25      (B) 28      (C) 30      (D) 32      (E) 35

- A4** Elli steht in dem Zahlenquadrat auf der 1. Sie hüpfte immer zu der Nachbarzahl, die um 3 größer ist – solange das möglich ist. Bis zu welcher Zahl hüpfte Elli?

1	5	8	11
4	7	10	14
24	23	13	18
21	19	16	20

(A) 11      (B) 13      (C) 18      (D) 19      (E) 21

- A5** Wie würde es aussehen, wenn im Bild rechts die grauen Quadrate weiß wären und die weißen Quadrate grau?




- A6** Die Puzzleteile im Bild rechts bilden ein Muster mit regelmäßigen Figuren. Welches Teil gehört in die Lücke?



- A7** Für Lillis Freunde bäckt ihre Großmutter 24 Muffins. Für 6 Muffins braucht sie 2 Eier. Sie kauft Eier in Schachteln zu je 6 Stück. Wie viele Schachteln muss sie kaufen?

(A) 1      (B) 2      (C) 3      (D) 4      (E) 8

- A8** Stefan beklebt einen Würfel mit 6 Tierstickern:



Rechts ist Stefans Würfel 2-mal abgebildet. Welches Tier liegt der Ente gegenüber?

(A) der Elefant      (B) die Maus      (C) der Käfer      (D) der Hund      (E) die Fliege