




Für Mittwoch brauchst du einen Gegenstand, der die Form eines Quaders hat, idealerweise eine Streichholzschatel.


Montag, 08.02.2021

Fach	Was ist zu tun	✓
Sachunterricht:	AB 1 „Das Gewitter“ – weitere Erklärungen findest du auf dem A	
Deutsch:	AB „Verben im Präteritum“ (Kontrolliere mit dem Lösungsblatt)	
Mathematik:	9.00 Uhr Videokonferenz MB S. 48/ 49 betrachte die beiden Seiten AH S.38 und wer nach 20min schon fertig ist, macht noch AB 2 (AB 3 ist freiwillig)	
Musik 	Du erinnerst dich an die Ukulele? S.137 (muss nicht unbedingt ausgedruckt werden) Lies den Text zu Israel „IZ“ Kamakawiwo'ole und schreibe ihn schön ab. Nr.4 „Höre das Lied Over der Rainbow“ und beschreibe die Stimmung des Liedes (Was fühlst du, an was musst du denken?). Schreibe dies auf.	


Dienstag, 09.02.2021

Fach	Was ist zu tun	✓
Deutsch:	AB 1 „Zwei Wünsche werden wahr“ Lies den Text und bearbeite die Aufgaben dazu.	
Mathematik: 	9.00 Uhr Videokonferenz MB S.50, wer sich an die Namen der Körperformen nicht mehr erinnern kann, findet Hilfe auf der AH S. 39. Mache MB. S.50/ 1 a bis d Schreibe deine Begründung auf. Lies Nummer 2 genau durch und betrachte die Bilder. Danach S. 50/ 3 ins Heft und AH. S.39	
Englisch  Nur von den Vokabeln	Neues Thema „At the museum“ rotes Buch p.17 Schreibe von p. 17 die Tiernamen aus der Box ab und schreibe die deutschen Wörter dahinter. ( das Kamel, das Krokodil, der Elefant, das Nilpferd, der Löwe, der Affe, der Papagei, die Schlange) Höre den Song (Schoolfox oder auf deiner CD Nr.11) und fülle den Text aus. Beginne das Lied auswendig zu lernen. Hoffentlich kannst du es mir am 23. Februar persönlich aufsagen.	

Mittwoch, 10.02.2021

Fach	Was ist zu tun	✓
Mathematik:	MB S.51 Betrachte das Lernvideo Markiere die Vorderseite deiner Schachtel. Mache Nr. 2a bis c und Nr.3 , danach AH S. 40 und S. 41	
Deutsch:	AB „Verben unterschiedlicher Zeitstufen zuordnen“	
Englisch:  nur p.18	Rotes Buch p.18 Ex.1 „Suche die Tier und kreise sie ein.“, Ex.2 „Schreibe die Wörter“. Ex.3 „Wie viele Tiere sind dort? Schreibe die Nummern.“ Bearbeite das AB 34 und schreibe die Wörter nochmal.	

Donnerstag, 11.02.2021


Fach	Was ist zu tun	✓
Musik:	Es gibt die Lernapp „Anton“ Dort muss man sich damit anmelden. Die Anwendung kann am PC, Handy oder Tablet genutzt werden Für Musik habe ich einen Pin erstellt, du sollst dort das Klavier machen, kannst aber die anderen Musikinstrumente auch bearbeiten. Mit den erarbeiteten Münzen kannst du ein Spiel spielen oder dein Profilbild verändern. Ich lege jeden Schüler anonym an.	
Sachunterricht: 	Bearbeite AB 2	
Mathematik:	Kontrolliere deine Arbeit von gestern. 9.00 Uhr Videokonferenz MB S. 53, danach Nr.2a „Wie lang ist der rot gekennzeichnete Weg von A nach B?“ Danach AH. 42 Nr.2  MB. 54 ganze Seite genau betrachten, Nr.1 und 3 ins Heft, danach AH. S. 43 (Willst du Nr. 2 probieren? Betrachte dazu MB S. 55)	
Deutsch:	AB Stolperwörter (Kontrolliere mit dem Lösungsblatt)	

 Schöne Ferien, die hast du dir verdient

(und deine Eltern natürlich auch 😊). 

# Nach den Fasnachtstagen

Donnerstag, 18.02.2021

Fach	Was ist zu tun	✓
Musik:	Bei Anton angemeldet, dann mache den Pin „Tasteninstrumente“	
Sachunterricht:	<p>Kontrolliere die ABs 1 und 2. Die Lösungen findest du im Schoolfox.            Schau das Video „Checker Tobi“ zum Thema Klima...            Damit du den Unterschied zwischen Wetter und Klima besser verstehen kannst.  <a href="https://www.br.de/mediathek/video/checker-tobi-der-klima-check-av:5b0bfa927496b50017199b89">https://www.br.de/mediathek/video/checker-tobi-der-klima-check-av:5b0bfa927496b50017199b89</a></p>  <p>Notiere die 3 Checkerfragen in dein Heft UND schreibe auch die Antworten dazu.</p>	
Mathematik:	<p>9.00 Uhr Videokonferenz            Rechenregeln/Gleichungen:            Erinnerung dich an: Klammer vor Punkt vor Strich!  <math>5 \cdot 8 + 2 = 40 + 2 = 42</math> Punkt vor Strich  <math>5 \cdot (8+2) = 5 \cdot 10 = 50</math> Klammer vor Punkt            S.72 Nr. 1a: Jeder Rechengeschichte eine Gleichung A, B oder C zuordnen.            Bearbeite dann Nr.1b, vergiss den Antwortsatz nicht.            Danach Nr. 2 Schreibe auf welche Kinder, die richtige Rechnung aufgeschrieben haben und löse deren Aufgaben.            Danach AH S.59 Nr. 1 (Nr.2. ist freiwillig)</p>	
Deutsch:	AB 4: Zeitstufen, 4 Fälle (Kontrolliere mit dem Lösungsblatt)	

Freitag, 19.02.2021

Fach	Was ist zu tun	✓
Sport	Kennst du den Spaichinger „Trimm dich Pfad“ am Dreifaltigkeitsberg? Vielleicht haben Mama oder Papa Zeit und Lust mit dir dort hinzugehen.	
D	<p><a href="https://online-lernen.levrai.de/deutsch-uebungen/grammatik_5_7/praeteritum_imperfekt/40_praeteritum_uebungen.htm">https://online-lernen.levrai.de/deutsch-uebungen/grammatik_5_7/praeteritum_imperfekt/40_praeteritum_uebungen.htm</a></p> <p>Hier findest du in der linken Spalte viele Übungen zu den Zeitformen. Übe.</p>	
BK	Ist deine Kunstmaske schon fertig, wenn nicht: dann musst du jetzt Gas geben, denn Fasnacht ist vorbei und vielleicht musst/ darfst du sie bald in die Schule bringen.	